

অন্তর্বর্তীকালীন পাঠপরিচালনা
২য় শ্রেণি

সপ্তাহ নম্বর	তারিখ	বার	বাংলা	ইংরেজি	গণিত
১২	৭ আগস্ট ২০২১	শনিবার	দাদির হাতের মজার পিঠা: পিরিয়ড ৫	ইউনিট:১২,পাঠ:৪-৬ পাঠ্যাংশ:A, পৃ.: ২৫	অধ্যায়:৫,গুণ,পাঠ:১৮, পৃ.:৫০
	৮ আগস্ট ২০২১	রবিবার	দাদির হাতের মজার পিঠা: পিরিয়ড ৬ <u>বাড়ির কাজ-১০</u>	ইউনিট:১২,পাঠ:৪-৬ পাঠ্যাংশ: B, পৃ.: ২৫ (বাড়ির কাজ -১৯)	অধ্যায়:৫,গুণ(৩ ও ৪ এর গুণ) পাঠ:১৯, পৃষ্ঠা:৫০
	৯ আগস্ট ২০২১	সোমবার	দাদির হাতের মজার পিঠা: পিরিয়ড ৭-৮ <u>বাড়ির কাজ-১০</u>	ইউনিট:১৩,পাঠ:১-৩ পাঠ্যাংশ:A,পৃ.:২৬	অধ্যায়:৫,গুণ,পাঠ:২০, পৃষ্ঠা:৫১
	১১ আগস্ট ২০২১	বুধবার	দাদির হাতের মজার পিঠা: পিরিয়ড ৯	ইউনিট:১৩,পাঠ:১-৩ পাঠ্যাংশ: B, C,পৃ.:২৬	অধ্যায়:৫,গুণ, পাঠ:২১, পৃষ্ঠা:৫১
	১২ আগস্ট ২০২১	বৃহ:বার	দাদির হাতের মজার পিঠা: পিরিয়ড ১০ <u>বাড়ির কাজ-১০</u>	ইউনিট:১৩,পাঠ:৪-৬ পাঠ্যাংশ:A,পৃ.: ২৭	অধ্যায়:৫,গুণ,পাঠ:২২, পৃষ্ঠা:৫২ <u>বাড়ির কাজ-২৪</u>

অনুশীলনী

১. শব্দগুলো পাঠ থেকে খঁজে বের করি। অর্থ বলি।

ধুম ভানা অনুষ্ঠান সুন্দর উনুন ভাপ সিদ্ধ মজাদার অঞ্চল বিখ্যাত

২. ঘরের ভিতরের শব্দগুলো খালি জায়গায় বসিয়ে বাক্য তৈরি করি।

উনুনে	অনুষ্ঠানে	ভাপ	সিদ্ধ	বিখ্যাত	সুন্দর	মজাদার
-------	-----------	-----	-------	---------	--------	--------

ক. দিয়ে তৈরি হয় ভাপা পিঠা।

খ. গোলাপ দেখতে।

গ. অতিথির জন্য খাবার রান্না হচ্ছে।

ঘ. আমরা গানের যাই।

ঙ. আমরা ডিম খাই।

চ. ভাত বসাও।

ছ. টাঙ্গাইলের চমচম।



৩. যুক্তবর্ণগুলো চিনে নিই। যুক্তবর্ণ দিয়ে তৈরি করা নতুন শব্দ পড়ি।

অনুষ্ঠান	ষ্ঠ	ষ	ঠ	কাঠ, পৃষ্ঠা
বর্ষা	র্ষ	র্ষ	ষ	বর্ষ, হর্ষ
রাত্র	ত্র	ত	৳ (র-ফলা)	পাত্র, ছাত্র
বাষ্প	ষ্প	ষ	প	পুষ্প, নিষ্পাপ
সিদ্ধ	দ্ধ	দ	ধ	বিদ্ধ, শুদ্ধ
উপস্থিত	স্থ	স	থ	সুস্থ, আস্থা
অঞ্চল	ঞ্চ	ঞ	চ	চঞ্চল, পঞ্চাশ
বিখ্যাত	খ্য	খ	্য (য-ফলা)	খ্যাপা, ব্যাখ্যা

৪. মুখে মুখে উত্তর বলি ও লিখি।

- ক. পিঠাপুলি খাওয়ার ধুম পড়ে কখন?
খ. চাল গুঁড়ো করা হয় কেন?
গ. ভাপে সিদ্ধ পিঠাকে কী পিঠা বলে?
ঘ. ভাপা পিঠা বানাতে কী কী লাগে?

৫. ছবির নিচে পিঠার নাম লিখি ও পিঠা সম্পর্কে বলি।



.....



.....



.....



.....

৬. আমার প্রিয় পিঠা সম্পর্কে দুইটি বাক্য লিখি।

.....

.....

Homework -19 (সপ্তাহ নম্বর: ১২)









Name:	Roll No.:	Date:
-------	-----------	-------

Unit: 12

Lesson: 4-6

Page: 25

B. Look at the pictures. Write the word under the picture.

 hand			
			

C. Play a game. Use the pictures in Activity B.



(স্বাস্থ্যবিধি অনুসরণপূর্বক বিতরণ করতে হবে)

শিক্ষার্থীর নাম:

বিদ্যালয়:

শ্রেণি: দ্বিতীয়

বিষয়: গণিত

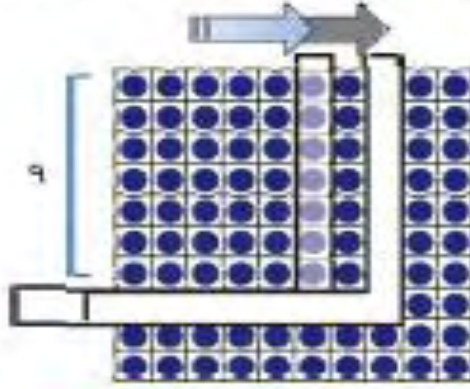
রোল নং:

৭ এর গুন



আমরা এ পর্যন্ত যা শিখেছি তার উপর ভিত্তি করে ৭ এর জন্য গুণের নামতা তৈরি করি।

যদি আমরা ১০০ ডটের ছকের উপর নিচের ছবির মতো বাম থেকে ডানে L আকৃতির কাগজ রাখি, তবে আমরা কী খুঁজে পাব?



আমার ধারণা হলো :

$৭ \times ১ = ৭$

$৭ \times ২ = ৭ + ৭ = ১৪$

$৭ \times ৩ = ৭ + ৭ + ৭ = ২১$

$৭ \times ৪ = ৭ + ৭ + ৭ + ৭ = ২৮$

$৭ \times ৫ = ৭ + ৭ + ৭ + ৭ + ৭ = ৩৫$

$৭ \times ৬ = \dots$

আমার ধারণা হলো :

$৭ \times ১ = ৭$

$৭ \times ২ = ৭ + ৭ = ১৪$

$৭ \times ৩ = ১৪ + ৭ = ২১$

$৭ \times ৪ = ২১ + ৭ = ২৮$

$৭ \times ৫ = ২৮ + ৭ = ৩৫$

তুমি কী উপায়ে ৭ এর গুন হিসাব করবে ?

$৭ \times ১ = ৭$

$৭ \times ২ = ১৪$

$৭ \times ৩ = \square$

$৭ \times ৪ = \square$

$৭ \times ৫ = \square$

$৭ \times ৬ = \square$

$৭ \times ৭ = \square$

$৭ \times ৮ = \square$

$৭ \times ৯ = \square$

$৭ \times ১০ = \square$