

অনুর্বর্তীকালীন পাঠপরিকল্পনা: ১ম শ্রেণি

স্বাস্থ্যবিধি অনুসরণ পূর্বক বিতরণ ও ব্যবহার করতে হবে

পরীক্ষামূলক

সপ্তাহ নম্বর	তারিখ	বার	বাংলা	ইংরেজি	গণিত
৮	০৩ জুলাই ২০২১	শনিবার	পাঠ:১৭, বর্ণশিখি চ ছ জ বা ঞ, পিরিয়ড:২ <u>বাড়ির কাজ-১২</u>	ইউনিট: ৮, পাঠ:১-৩ পাঠ্যাংশ:A, পৃ.:১৬	বিভিন্ন ধরনের যোগ পাঠ:৪২, পৃ.:৩২ <u>বাড়ির কাজ-১৮</u>
	০৪ জুলাই ২০২১	রবিবার	পাঠ:১৭, বর্ণশিখি চ ছ জ বা ঞ, পিরিয়ড:৩ <u>বাড়ির কাজ-১২</u>	ইউনিট: ৮, পাঠ:১-৩ পাঠ্যাংশ:B-C, পৃ.:১৬	বিভিন্ন ধরনের যোগ পাঠ:৪৩ পৃ.:৩২
	০৫ জুলাই ২০২১	সোমবার	পাঠ:১৭, বর্ণশিখি চ ছ জ বা ঞ, পিরিয়ড:৪ <u>বাড়ির কাজ-১২</u>	ইউনিট: ৮, পাঠ:৪-৬ পাঠ্যাংশ:A, পৃ.: ১৭	বিভিন্ন ধরনের যোগ পাঠ:৪৪ পৃ.:৩৩ <u>বাড়ির কাজ-১৯</u>
	০৬ জুলাই ২০২১	মঙ্গলবার	পাঠ:১৭, বর্ণশিখি চ ছ জ বা ঞ, পিরিয়ড:৫ <u>বাড়ির কাজ-১২</u>	ইউনিট: ৮, পাঠ:৪-৬ পাঠ্যাংশ:B, পৃ.:১৭ (বাড়ির কাজ -১০)	বিভিন্ন ধরনের যোগ পাঠ:৪৫ পৃ.:৩৩
	০৭ জুলাই ২০২১	বুধবার	পাঠ:১৮, বর্ণশিখি ট ঠ ড ঢ ণ, পিরিয়ড:১ <u>বাড়ির কাজ-১৩</u>	ইউনিট: ৮, পাঠ:৪-৬ পাঠ্যাংশ:C,পৃ.: ১৭ (বাড়ির কাজ -১০)	বিভিন্ন ধরনের যোগ পাঠ:৪৬ পৃ.:৩৪ <u>বাড়ির কাজ-২০</u>
	০৮ জুলাই ২০২১	বৃহ:বার	পাঠ:১৮, বর্ণশিখি ট ঠ ড ঢ ণ, পিরিয়ড:২ <u>বাড়ির কাজ-১৩</u>	ইউনিট:৯, পাঠ:১-৩ পাঠ্যাংশ:A, পৃ.:১৮	নিজে করি পাঠ:৪৭ পৃ:৩৫ <u>বাড়ির কাজ-২১</u>

বাড়ির কাজ - ১২

শ্রেণিঃ প্রথম
শিক্ষার্থীর নামঃ

রোল নম্বরঃ

বিষয়ঃ বাংলা
তারিখঃ

বলি



চশমা



ছবি



জল



ঝড়



মিঞা

পড়ি ও লিখি




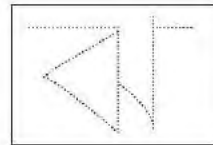
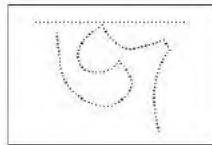
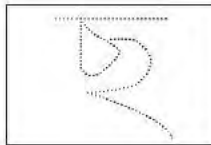
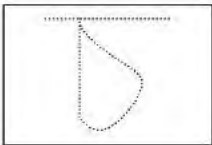
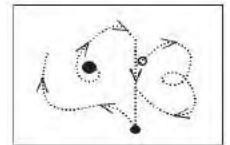
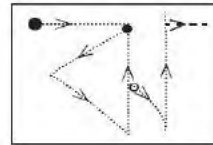
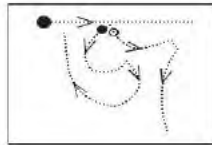
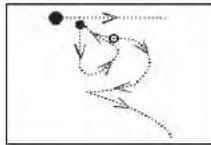
চ

ছ

জ

ঝ

ঞ



বাড়ির কাজ - ১৩

শ্রেণিঃ প্রথম
শিক্ষার্থীর নামঃ

রোল নম্বরঃ

বিষয়ঃ বাংলা
তারিখঃ

বলি



টগর



ঠোঙা



ডাব



ঢাক



চরণ

পড়ি ও লিখি

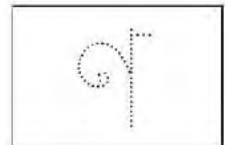
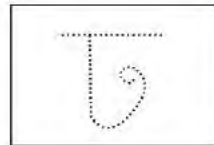
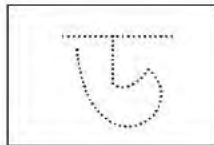
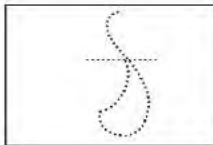
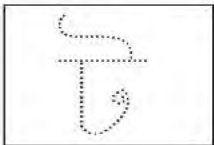
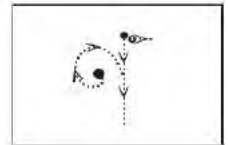
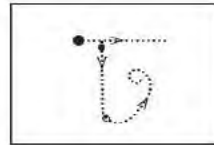
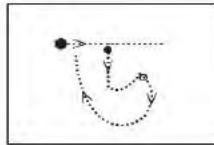
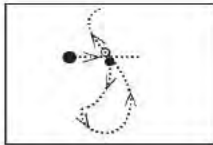
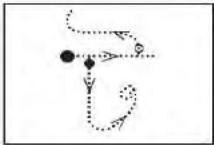
ট

ঠ

ড

ঢ

ণ



Homework -10

Name:	Roll No.:	Date:
-------	-----------	-------

Unit: 08

Lesson: 4-6

Page: 17

Alphabet

Lessons 4-6



A. Look, listen and say. Trace in the air.

F f



B. Say and read. Trace and write.

F F F

f f f

C. Say, trace and write.



_fish
_ish
_ish

শিক্ষার্থীর নাম:
বিদ্যালয়:

শ্রেণি: প্রথম

বিষয়: গণিত
রোল নং:

৭.৪ বিভিন্ন ধরনের যোগ



কোন কোন সংখ্যার যোগফল ৭ হবে?

খালি ঘরে কোন সংখ্যা হবে?

$$১ + \boxed{৬} = ৭$$

$$৪ + \boxed{} = ৭$$

$$০ + \boxed{} = ৭$$

$$৫ + \boxed{} = ৭$$

আর কোন কোন সংখ্যার যোগফল ৭ হবে?

$$\boxed{} + \boxed{} = ৭$$

$$\boxed{} + \boxed{} = ৭$$

$$\boxed{} + \boxed{} = ৭$$

$$\boxed{} + \boxed{} = ৭$$

লক্ষ করি



আমি পেয়েছি
 $১ + ৬ = ৭$
 $৬ + ১ = ৭$

যোগ দুইটিতে একই সংখ্যা
ব্যবহার করা হয়েছে।
অন্য যোগগুলোতেও কি একই
নিয়ম দেখা যায়?



যোগের সংখ্যা দুইটি বদল করে একই যোগফল পাওয়া যায়।



১। (১) $\boxed{}$ খালি ঘরে কোন সংখ্যা বসবে?

(২) $৩ + \boxed{}$ এর উত্তরের সাথে $৬ + ৩$ এর উত্তর একই হয়।

(৩) $\boxed{} + ২$ এর উত্তরের সাথে $২ + ৮$ এর উত্তর একই হয়।



শিক্ষার্থীর নাম:

বিদ্যালয়:

শ্রেণি: প্রথম

বিষয়: গণিত

রোল নং:

দেখি পারি কি না!



খেলার মাঠে ২ জন শিশু খেলছিল। একটু পরে ১ জন শিশু আসল। এর পরে আরও ৪ জন শিশু আসল। এখন মাঠে কতজন শিশু খেলছে?

তুমি কীভাবে হিসাব করবে?

$$২ + ১ + ৪ = \square$$



বাম থেকে ডানে যোগ করি।

$$\begin{array}{r} ২ + ১ + ৪ = \square \\ \square \\ \square \end{array}$$



২। যোগ করি :

(১) $৩ + ২ + ১ =$

(২) $৪ + ২ + ৪ =$

(৩) $১ + ১ + ১ =$

(৪) $২ + ২ + ২ =$

(৫) $৩ + ৩ + ৩ =$

(৬) $১ + ২ + ৩ =$

(৭) $২ + ৫ + ৩ =$

(৮) $১ + ০ + ৮ =$

(৯) $০ + ৭ + ০ =$

(১০) $১ + ১ + ১ + ১ =$ (১১) $২ + ২ + ২ + ২ =$ (১২) $১ + ২ + ৩ + ৪ =$



৩। রাজু একটি বই পড়ছে। সে গত পরশু দিন ৩ পৃষ্ঠা পড়েছে। গতকাল ২ পৃষ্ঠা পড়েছে এবং আজ সে ৪ পৃষ্ঠা পড়েছে। সে মোট কত পৃষ্ঠা পড়েছে?



৪। মিঠুর ১টি বিস্কুট ছিল। তার বাবা তাকে ৭টি বিস্কুট দিলেন। তার মা তাকে আরও ২টি বিস্কুট দিলেন। এখন তার কতগুলো বিস্কুট হলো?

বাড়ির কাজ-২০ (পরীক্ষামূলক)
(স্বাস্থ্যবিধি অনুসরণপূর্বক বিতরণ করতে হবে)

শিক্ষার্থীর নাম:

বিদ্যালয়:

শ্রেণি: প্রথম

বিষয়: গণিত

রোল নং:



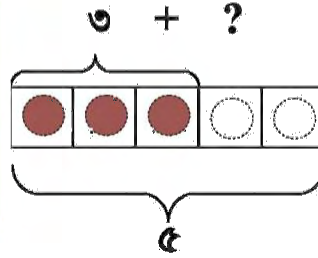
লুকানো সংখ্যা বের করি।

$$৩ + \text{☁} = ৫$$

একটি সংখ্যা মেঘের
মধ্যে লুকিয়ে আছে!

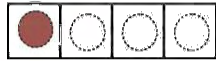


রং করার জন্য ৫টি গোল
আছে। আমরা বাম দিক
থেকে তিনটি গোলে রং
করেছি। আর কয়টিতে
রং করতে পারব?



৫। খালি ঘরে কোন সংখ্যা হবে ?

(১) $১ + \square = ৪$



(২) $\square + ২ = ৫$



(৩) $৪ + \square = ৬$



(৪) $\square + ৩ = ৮$



(৫) $৩ + \square = ১০$



(৬) $\square + ৪ = ১০$



বাড়ির কাজ-২১ (পরীক্ষামূলক)
(স্বাস্থ্যবিধি অনুসরণপূর্বক বিতরণ করতে হবে)

শিক্ষার্থীর নাম:
বিদ্যালয়:

শ্রেণি: প্রথম

বিষয়: গণিত
রোল নং:

৭.৫ নিজে করি

১। যোগ করে যোগফলের সঙ্গে মিল করি।

$৩ + ২$	৭	$২ + ৭$	০
$৫ + ৪$	৫	$০ + ১০$	৫
$১ + ৯$	৮	$২ + ২$	৪
$৬ + ০$	৯	$১ + ৪$	৯
$৪ + ৩$	১০	$৪ + ৪$	১০
$০ + ৮$	৬	$০ + ০$	৮

২। যে দুইটির যোগফল একই তা মিল করি।

$১ + ৮$	$৬ + ২$	$৩ + ৪$	$২ + ৩$	$৫ + ১$
$৩ + ২$	$২ + ৬$	$৮ + ১$	$১ + ৫$	$৪ + ৩$